






水果趣味算術

將鍵盤上的數字帶入，解出這些水果算術題。

				
1	2	3	4	5

$$\text{Pomegranate} - \text{Lemon} + \text{Apple} = \square$$

$$\text{Pineapple} + \text{Mango} + \text{Pomegranate} = \square$$

$$\text{Lemon} - \text{Apple} + \text{Pineapple} = \square$$

$$\text{Mango} + \text{Pomegranate} - \text{Lemon} = \square$$

答案：4, 8, 3, 2, 4次



讀阿爾瑪書32：41-43，你數到果子這個詞幾次呢？
你要如何讓你的信心成長呢？